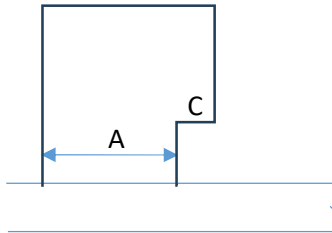


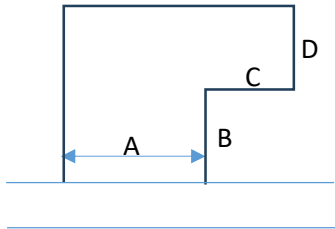
1.下記のいずれかに該当する敷地は路地状敷地と扱わないこととする

①路地状部分の幅員が、奥の部分に比較して十分に広い場合



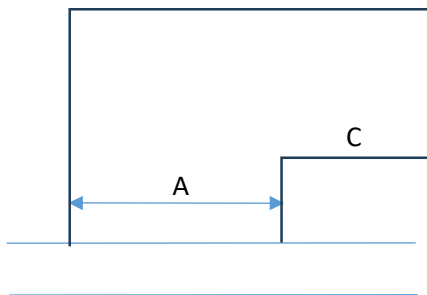
$$C \leq A/2$$

②路地状部分が、奥の敷地と比較して大きい場合



$$D \leq A \text{ かつ}$$
$$B \geq C \text{ かつ } A > C$$

③路地状部分が、一定の幅員を有しており、奥の部分に比較して大きい場合



$$A \geq 20\text{m} \text{ かつ}$$
$$A > C$$